

令和8年度

日本大学

危機管理学部

総合型選抜入学試験

総合問題試験 問題用紙

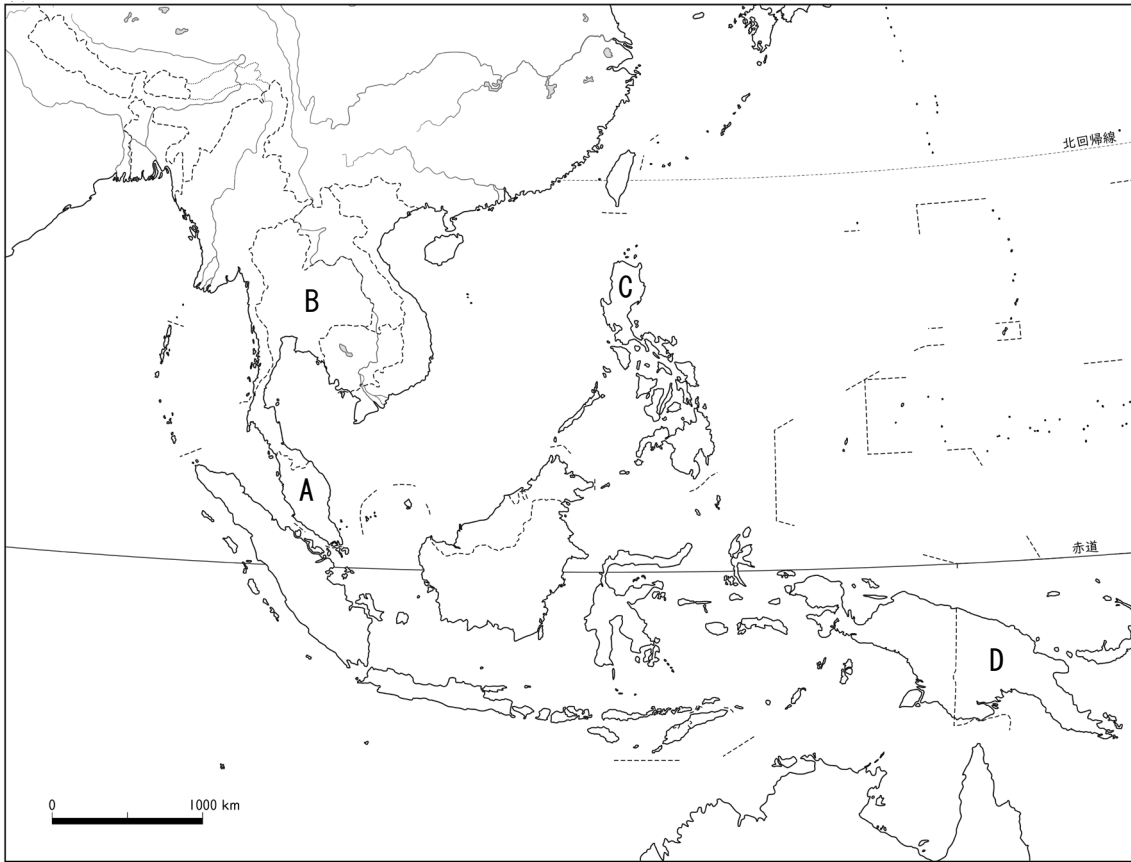
注意事項

- 試験開始の合図があるまでは問題用紙を開かないでください。
- 試験問題は表紙を除いて6ページあります。
- 試験開始後、落丁等がないか確認してください。
- 問題用紙の表紙に、受験番号、氏名・フリガナを記入してください。
- 解答用紙に、受験番号、氏名・フリガナを記入してください。
- 解答は、解答用紙の指定の箇所に記入してください。
- 問題用紙の裏面は、下書き用紙として利用してかまいません。
- 問題用紙・解答用紙は、試験終了後に提出してください。

受験番号					フリガナ	
					氏名	

I

次の図を見て、問1～問5に答えなさい。



©帝国書院

問1 地図で示した A～D の記号の地域を含む国名の組合せとして正しいものを、次の①～⑤から一つ選びなさい。

- | | | | |
|-----------|---------|-------------|-------------|
| ① A：マレーシア | B：タイ | C：フィリピン | D：パプアニューギニア |
| ② A：ミャンマー | B：タイ | C：パプアニューギニア | D：ブルネイ |
| ③ A：ラオス | B：ミャンマー | C：インドネシア | D：マレーシア |
| ④ A：マレーシア | B：ラオス | C：フィリピン | D：ブルネイ |
| ⑤ A：ラオス | B：カンボジア | C：インドネシア | D：パプアニューギニア |

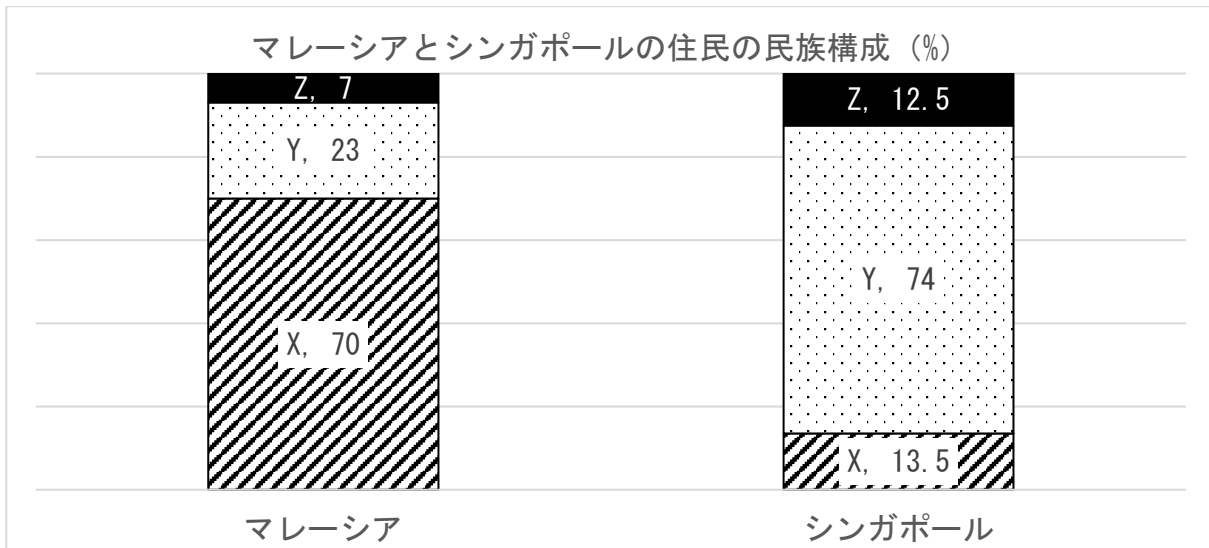
問2 次の文章中の空欄ア～オに入る語句としてもっとも適切なものを、下の語群 a～m の中から一つずつ選びなさい。語群の語句は1度しか使用できません。

東南アジアでは、モンスーンと呼ばれる（ア）の影響があり、特に国Bが位置する（イ）などの大陸部では雨季と乾季の差が大きい。この地域では稲作がさかんで、特に大陸から流れ出た河川の河口部にひろがる（ウ）では、灌漑による大規模生産が行われている。国Cや国Dなどが位置する島しょ部には（エ）気候が広がっていて、年間を通じて降雨が多い。稲作以外の農業としては、コーヒーやゴムなどの商品作物を大規模単一生産する（オ）がさかんである。

<語群>

a.プランテーション農業、b.シナイ半島、c.緑の革命、d.熱帯雨林、e.インドシナ半島、f.混合農業、g.台地、h.季節風、i.サバナ、j.盆地、k.偏西風、l.デルタ、m.ダム

問3 以下のグラフはマレーシアとシンガポールの住民の民族構成を割合で示したものである。このうち、中国系住民の割合を示すものを、X、Y、Zから選びなさい。



2025年9月末日時点での外務省HP (<https://www.mofa.go.jp/mofaj/index.html>)
内の情報をもとに作成

問4 東南アジアの歴史を述べた文章として最も適切なものを、次の①～④から一つ選びなさい。

- ① 19世紀末までに、タイを含む大半の国が植民地となった。
- ② 1955年にはインドネシアでバンドン会議がひらかれ、反植民地主義を掲げたアジア諸国とソ連との協力が促進された。
- ③ 北ベトナムを支援していたアメリカは北爆を行った 1965年から本格的に介入したが、最終的には撤退し、ベトナム社会主義共和国が南北ベトナムを統一した。
- ④ 1992年にはカンボジアでの国連平和協力活動（PKO活動）に自衛隊が初めて派遣された。

問5 東南アジアに関して述べた文章として最も適切なものを、次の①～④から一つ選びなさい。

- ① 東南アジア条約機構（SEATO）は 2025年現在も東南アジアで唯一の安全保障協力として機能している。
- ② 日本は、中国や韓国などと共に東南アジア諸国連合（ASEAN）の加盟国となっている。
- ③ 東南アジア諸国はアジア太平洋経済協力会議（APEC）などの枠組みを通じて、南北アメリカ地域などとも結びついている。
- ④ アジア NIEs とは ASEAN の中でも経済力の高いシンガポールなどの国による協議体をさす。

II

次の図1-Aは、2020年における日本の人口ピラミッドを示したものである。また、図1-Bは、2065年における日本の人口ピラミッド〔出生中位（死亡中位）推計〕を示したものである。これらのグラフを参考にして、以下の問題に答えなさい。

図1-A

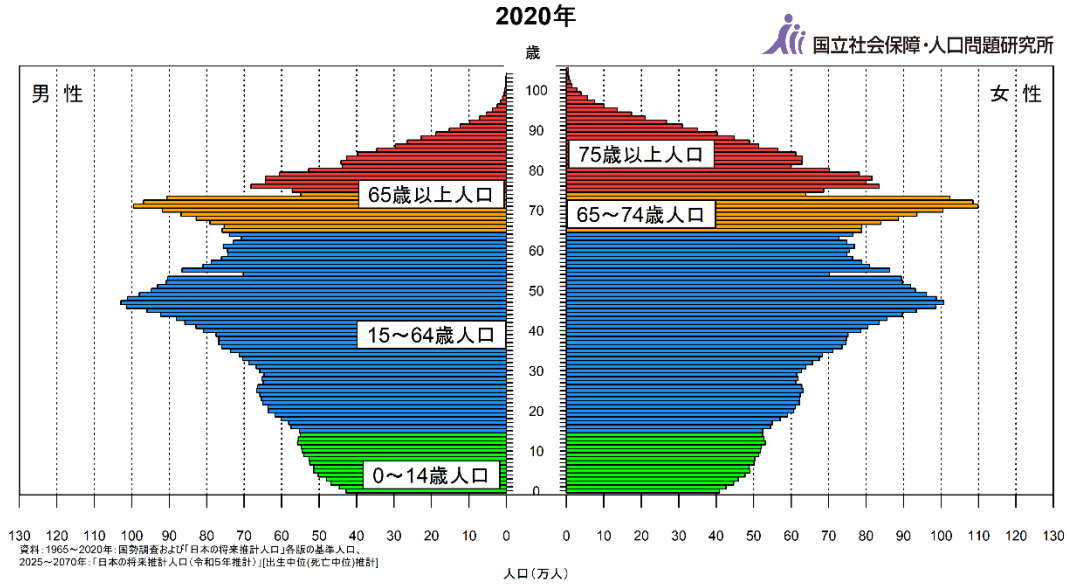
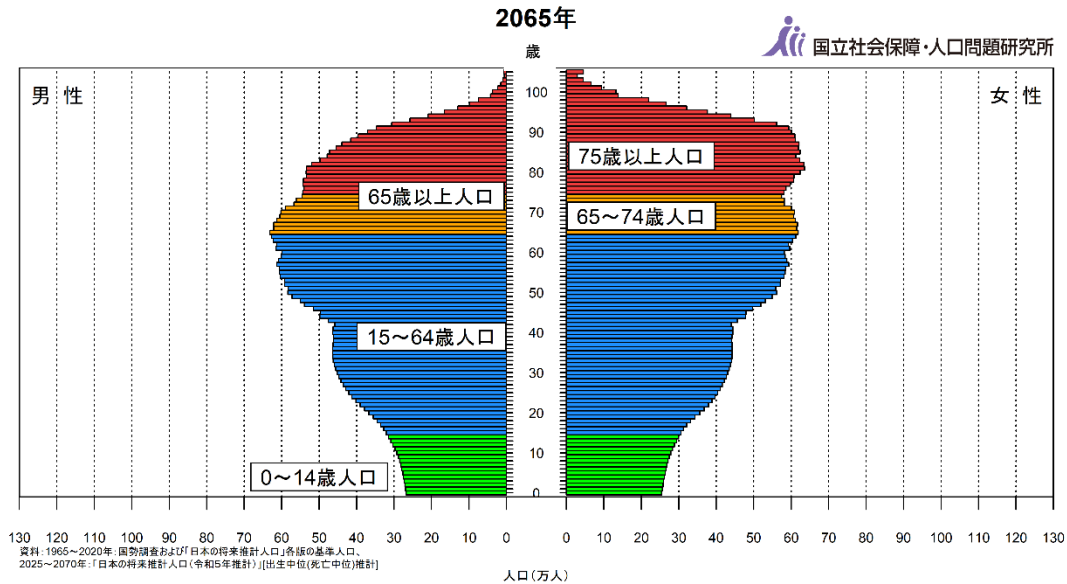


図1-B



問1 図1-Aに示されている2020年の国勢調査における日本の総人口約1億2600万人に占める、65歳以上の割合として最も適切なものを、次の①～④から一つ選びなさい。

- ① 約19% ② 約29% ③ 約39% ④ 約49%

問2 労働力の中心となる15～64歳の人口を示す単語を、解答欄に記入しなさい。

問3 2024年の日本の合計特殊出生率として最も適切な数値を、次の①～④から一つ選びなさい。

- ① 0.75 ② 1.15 ③ 2.21 ④ 3.08

問4 2065年の日本の総人口の推計（出生中位（死亡中位）推計）では、2020年の総人口から約27.4%減少するとされている。その値として最も適切なものを、次の①～④から一つ選びなさい。

（国立社会保障・人口問題研究所「日本の将来推計人口（令和5年推計）」より。）

- ① 約1億2000万人 ② 約1億人 ③ 約9100万人 ④ 約8400万人

問5 過疎化が進行し、構成する人口の50%以上が65歳以上であり、社会活動の維持が困難な状況に陥った地域を指す単語を答えなさい。

問6 少子高齢化が進行することにより、懸念される危機管理上の課題について、本学部の4つの領域（①災害マネジメント領域、②パブリックセキュリティ領域、③グローバルセキュリティ領域、④情報セキュリティ領域）の内の一つの分野を選択したうえで、300字以内で説明しなさい。

III

次の文章は、政府の中央防災会議が、防災に関する国の方針をまとめた『防災基本計画』（中央防災会議、2025 年）の一節を抜き出したものである（一部改変して引用）。文章を読み、問 1～問 5 に答えなさい。

市町村は、避難所又はその近傍で地域^(ア) カンケツ型の備蓄施設を確保し、快適なトイレ環境確保のための携帯トイレ、簡易トイレ、食料、飲料水、適温の食事のための炊き出し用具やキッチン資機材、安眠確保のための段ボールベッド・エアベッド等の簡易ベッド、毛布、^(イ) プライバシー確保のためのパーティション、衛生促進のための入浴設備、洗濯設備、^(ウ) 乳児用粉ミルク又は乳児用液体ミルク、乳児・小児用おむつ、大人用おむつ、トイレトペーパー、生理用品のほか、マスクや消毒液等の^(エ) 感染症対策に必要な物資等の避難生活に必要な物資を備蓄するものとし、これらの物資の備蓄状況については、年に1回、広く住民に公表するものとする。（48 頁）

市町村（都道府県）は、防災担当部局と福祉担当部局との連携の下、高齢者、^(オ) 障害者等の要配慮者の避難支援の実施等に努めるものとする。（61 頁）

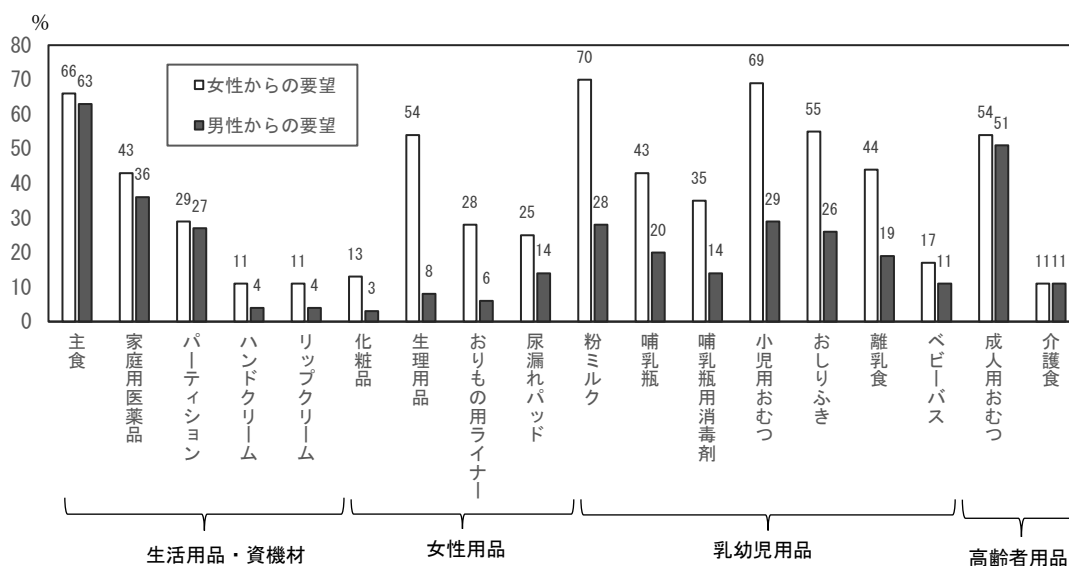
問 1 下線部（ア）の語と同じ漢字を用いる語として最も適切なものを、次の①～④から一つ選びなさい。

- ① 彼は物事をカンケツに説明するのが上手だ。
- ② 毎週楽しみにしていたアニメが今週ついにカンケツした。
- ③ 昨夜からカンケツ的な痛みに襲われている。
- ④ カンケツの馬は1日千里を走る。

問 2 下線部（イ）に関連して、プライバシーの権利に関する説明として最も適切なものを、次の①～④から一つ選びなさい。

- ① 公共の利益を目的とするならば、他人の個人情報をも本人の承諾を得ずに利用することが許されている。
- ② プライバシーの権利は、日本では「私生活上の事柄をみだりに公開されない権利」として保障されている。
- ③ プライバシーの権利は、幸福追求権などと同様に日本国憲法に明文規定されている権利である。
- ④ 2003 年に制定された個人情報保護法は、民間事業者の経済活動を目的とする個人情報の利用を禁止している。

問3 下線部(ウ)に関連して、下図は東日本大震災において、内閣府が岩手県、宮城県、福島県の各県の市町村を対象に実施した調査の結果の一部である。備蓄品や支援物資に関して、特に被災者から要望のあったものが性別ごとに示されている。市町村が防災上整備する備蓄品や支援物資に関して、図から読み取れる問題点を50字以上75字以下で説明しなさい。



(備考) 1. 内閣府「男女共同参画の視点による震災対応状況調査」(平成23年)より作成。
 2. 調査対象は、被災3県「岩手県・宮城県・福島県」の108地方公共団体の男女共同参画担当。調査時期は平成23年11月。

出典：内閣府男女共同参画社会局、2012年『平成24年版男女共同参画社会白書』15頁をもとに作成。

問4 下線部(エ)に関連して、感染症に対応する国際連合の機関として最も適切なものを、次の①～④から一つ選びなさい。

- ① WTO ② UNHCR ③ WHO ④ IMF

問5 下線部(オ)に関連して、2014年に日本が^{ひじゅん}批准し、障害者が他の人と平等に基本的な自由と人権を享受できるよう、各国の講じるべき措置が定められた条約の名称を答えなさい。